

<範圍：L5~L6>

【劃卡代號：51】

班級： 座號： 姓名：

※答案卡限用 2B 鉛筆劃記，答案請劃記明確；若有劃記錯誤，請擦拭乾淨。分數以電腦讀卡分數為準。

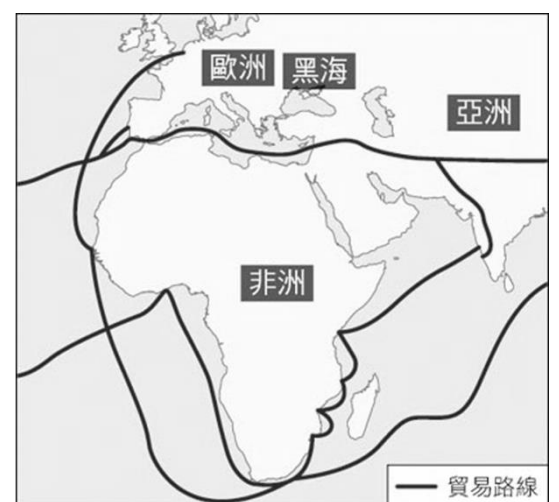
※配分：第 1 到第 10 題，每題 4 分，第 11 到第 30 題，每題 3 分，共 100 分)

一、單選題：

- () 1. 十八世紀有位學者提出以下看法：「反對政府對於經濟事務的介入或干預，政府對於在經濟領域任何積極的作為，不但會扼殺個人積極主動的工作動機，而且會阻礙國家整體經濟的成長。」請問這位學者是誰？ (A)亞當斯密 (B)孟德斯鳩 (C)洛克 (D)盧梭。
- () 2. 右圖是貝輪塔於 1520 年完工，紀念航海家從此出發，成功繞過非洲南端，完成抵達印度的壯舉。請問上述紀念的航海家是誰？
(A)狄亞士 (B)達伽馬 (C)哥倫布 (D)麥哲倫。
- () 3. 一場研討會的海報上寫了下方兩段話。請問根據內容判斷，這場研討會的主題是誰？
◎他曾於 1762 年發表重要的政治著作，書中所提出的「主權在民」思想具有劃時代的意義，是現代民主的基石。
◎他認為人生來是自由平等，一個理想的社會應建立在人與人之間的契約關係之上，國家則是自由協議的產物，政府的權力來自被統治者的認可。
(A)孟德斯鳩 (B)伏爾泰 (C)洛克 (D)盧梭。
- () 4. 西元 1610 年伽利略出版《星際使者》一書震撼全歐洲，當時人們宣稱「哥倫布發現了新大陸，伽利略發現了新宇宙」，遂稱之為「天空的哥倫布」。請問伽利略的貢獻最有可能為何？
(A)利用新工具觀察天體證實哥白尼的學說 (B)天文學界中首度提出太陽為宇宙中心論
(C)提出三大運動定律及萬有引力的科學家 (D)協助編纂百科全書將知識做系統性整理。
- () 5. 近日世足賽順利落幕，但小弘支持的球員內馬爾，代表巴西出戰卻不幸落敗，小弘想用內馬爾的母語在社群網路留言打氣，請問：他應該用翻譯軟體，將中文轉成哪一語言？
(A)西班牙文 (B)葡萄牙文 (C)法文 (D)荷蘭文。
- () 6. 亨利於 17 世紀初期隨著英國東印度公司的貨船來到亞洲，在他的行程中可能遇到下列何事？
甲、在印度擴張殖民活動 乙、與葡萄牙、荷蘭船隻競爭；
丙、與台灣鄭氏政權簽訂商約 丁、參與公司在巴達維亞營運總部的建立
(A)甲乙丙 (B)甲丙丁 (C)甲乙丁 (D)乙丙丁。
- () 7. 「我不同意你的意見，但我以死捍衛你說話的權利。」一句最早出現於伊夫林·碧翠思·霍爾的著作中，用以歸納一位啟蒙時代學者的理念。請問：這本著作應是以下列哪位學者為主題？
(A)洛克 (B)盧梭 (C)伏爾泰 (D)孟德斯鳩。
- () 8. 承上題，伊夫林·碧翠思·霍爾是運用哪一學者所提出研究知識的方法？
(A)牛頓 (B)培根 (C)笛卡兒 (D)伽利略。
- () 9. 右方兩張地圖是貿易路線的示意圖，貿易路線由左圖轉變到右圖的背景何者正確？
(A)阿拉伯人阻斷陸路貿易
(B)蒙兀兒人哄抬商品價格
(C)基督教會支持海外探險
(D)使用羅盤航海技術進步。



主要貿易路線是陸路貿易及沿岸航線



遠洋航線貿易增加

- ()10. 他在後世被稱為百科全書之父，於 1751 年與達朗貝爾開始編纂百科全書，總共發行 35 冊，完成 7 萬多篇條目，2,000 萬字，圖文並茂，前後動員了學者、官僚、工匠等一百多人共同執筆，不乏包含當時重要的法國思想家。請問被稱為百科全書之父的「他」是誰？
(A)狄德羅 (B)伏爾泰 (C)笛卡兒 (D)盧梭。
- ()11. 哲學家康德在其文章裡寫道：「人人皆有理性，但人會陷於困境乃因不能善用他的知識，尤其無人指導時，更覺茫然。因此人會自作自受的束縛是因為缺乏決心使用理性，我們應勇於求知，勇敢使用你的理性吧！」請問上文描述的是哪一時期的特色？
(A)文藝復興時期 (B)宗教改革時期 (C)海外拓殖時期 (D)啟蒙運動時期。
- ()12. 小弘整理關於 16、17 世紀科學革命興起的背景，請問下列哪些項目哪些符合事實？
甲、人文主義思考方式的影響 乙、羅盤等新工具的發明
丙、知識方法的運用 丁、新舊教會相繼成立科學機構
(A)甲乙 (B)乙丙 (C)丙丁 (D)甲丙。
- ()13. 1530 年，哥白尼完成了他的著作，是一本叫做《小註解》的短文，雖未曾出版，手稿卻在歐洲學者間四處傳閱。任教於威汀堡大學的數學教授雷替克斯閱讀哥白尼的短文深受感動，親自到哥白尼住處拜訪，並一起討論了兩年，在 1543 年出版了手稿，當時立刻轟動整個歐洲。請問該這份手稿對當時歐洲有何影響？
(A)其中的「三大運動定律」奠定了近代物理學基礎
(B)提出「日心說」挑戰天主教教會傳統的「地心說」
(C)開啟了歐洲各國積極向海外探險的「大航海時代」
(D)促使人們重新認識並復興古希臘羅馬的知識文化。
- ()14. 歷史老師上課說：「中國各朝一旦以血緣進行封建必會發生宗室之亂。西周有封建、漢代有封建、西晉有封建、明代有封建，因此以上四朝都發生宗室之亂。」請問歷史老師採用哪一方法推理出歷史知識？※「宗室之亂」：意指皇室成員爭鬥而造成亂事。
(A)歸納法 (B)演繹法 (C)心智圖法 (D)曼陀羅思考法。

二、題組：

(一)閱讀短文並回答第 15~17 題：

這個帝國的統治者信仰伊斯蘭教，但 16 世紀時，阿克巴大帝卻歡迎各個教派到他的新都——勝利之都錫克里進行討論，不論是婆羅門教、祆教或是從印度果亞來的基督教傳教士，都可以享有傳教自由。但阿克巴逝世的百年後，他的帝國因為繼承者的宗教派迫害政策叛亂四起，國勢日薄西山。17 世紀西歐陸續前來印度佔領據點進行貿易，並且相互競爭，動搖帝國的統治，其中○○後來居上，在 18 世紀擊敗其他勢力，幾乎獨佔全印度的貿易。

- ()15. 根據判斷，這個帝國最有可能是何者？
(A)蒙兀兒帝國 (B)阿拉伯帝國 (C)塞爾柱帝國 (D)鄂圖曼帝國。
- ()16. 文中從印度果亞來的基督教傳教士最早來自哪一個國家？
(A)西班牙 (B)英國 (C)葡萄牙 (D)荷蘭。
- ()17. 幾乎獨佔全印度的○○，所指為何？
(A)西班牙 (B)英國 (C)葡萄牙 (D)荷蘭。

(二)小弘在《世界遺產名錄》一書看到：「波托西位在安地斯山脈的里科山，它是世界上海拔最高的城市之一，也是世界上最大的白銀礦床，在大航海時代前，印加人在此開採銀礦，用於裝飾神廟及打造首飾。到了 16 世紀，卻有數萬殖民者湧進，在此處建立波托西城。」

- ()18. 參考右圖，請問「波托西城」位在何處？
(A)甲 (B)乙 (C)丙 (D)丁。
- ()19. 建造「波托西城」的殖民者來自哪一國？
(A)葡萄牙 (B)西班牙 (C)英國 (D)荷蘭。

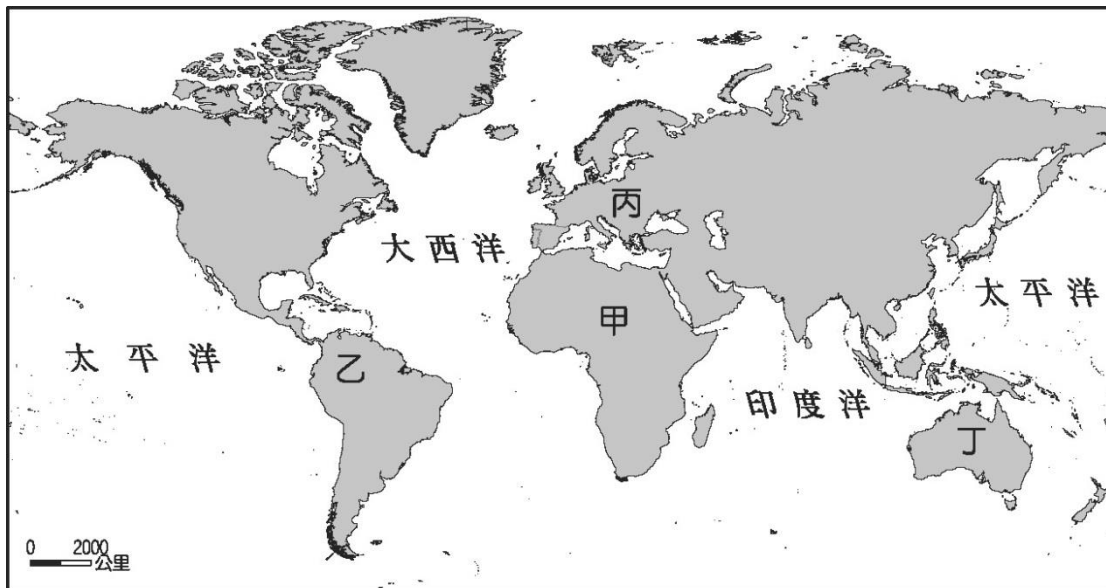


(三)右圖是荷蘭聯合東印度公司從政府取得的特權，根據內容回答第 20~21 題：

- () 20. 請問此公司對當時的亞洲地區產生下列何種影響？
 (A)武力攻打日本迫其開港 (B)占領澎湖與清帝國談判
 (C)在台建立要塞熱蘭遮城 (D)取代英國與鄭氏簽商約。
- () 21. 由於此公司佔領了不少殖民地，在當地留下不少文化遺跡，如果我們
 們要尋找這些殖民地要塞的遺跡，可以到下列哪一地點？
 (A)菲律賓 (B)澳門 (C)越南 (D)印尼。

- 1、可自行向他國宣戰
 2、審判犯人並處刑
 3、和外國談判
 4、發行貨幣
 5、建立殖民地或要塞

(四)下方為世界簡圖，根據內容回答第 22~24 題：



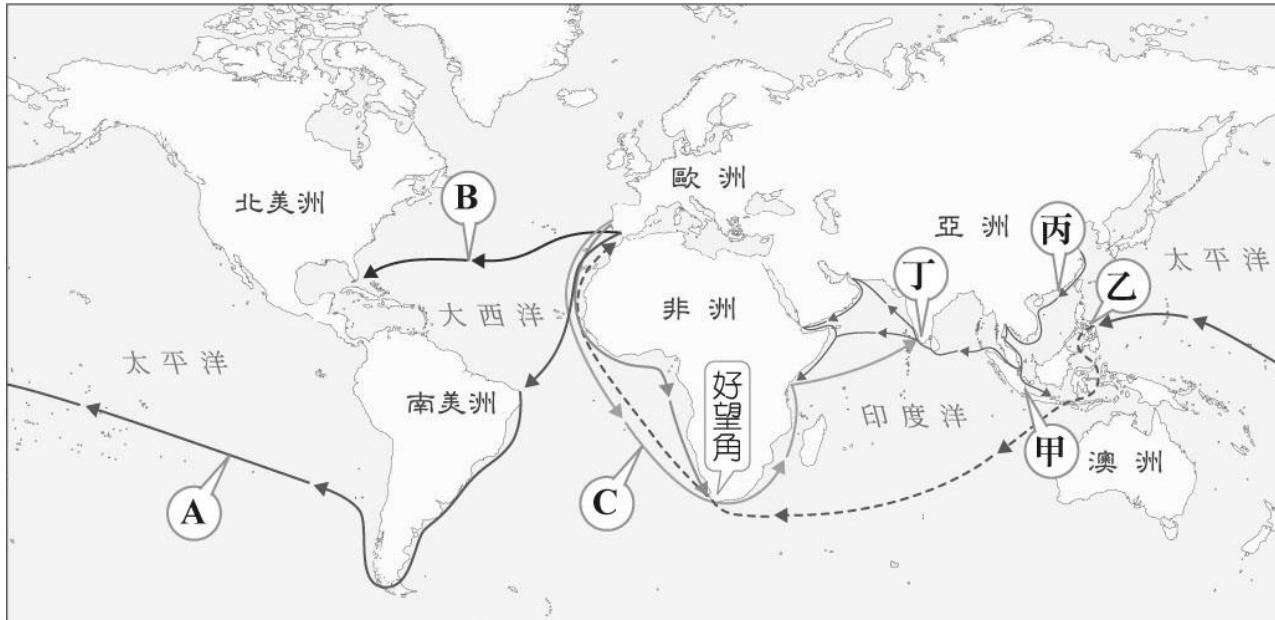
- () 22. 西元 1600 年(明萬曆 28 年)中國人口約略 1 億 5 千萬，至西元 1790 年(清乾隆 55 年)增至 3 億人口。探究其因，除了清朝初年太平盛世外，更重要是從海外傳入番薯、馬鈴薯、玉米等新作物。上述新作物的原產地，最有可能位於圖中何處？
 (A)甲 (B)乙 (C)丙 (D)丁。
- () 23. 對於該國多數人而言，1 月 26 日國慶日是紀念英國船長亞瑟·菲利普帶他們祖先抵達這塊大陸的日子。但托雷斯群島的島民，則是將這天視為「入侵日」，數萬罪犯與淘金客湧入，導致島上許多家庭破碎、族群傲人的文化滅絕，即便如此至今他們仍努力生存著，積極尋求正義。請問托雷斯群島的島民屬於圖中何處的原住民？ (A)甲 (B)乙 (C)丙 (D)丁。
- () 24. 奴隸貿易大約始於 9 世紀，但在 16-19 世紀期間達到最高峰，有將近 2000 萬人從「奴隸海岸」進入貿易市場，但有 150 萬人死在船上，他們被送往世界各地，其中 600 萬送往亞洲，1200 萬送到新世界。請問「奴隸海岸」到「新世界」是指哪條路徑？
 (A)甲→乙 (B)甲→丙 (C)甲→丁 (D)乙→丁。

(五)以下是法國於 18 世紀公布的人權與公民權宣言部分內容。請回答第 25~27 題：

第一條：自由與平等是人與生俱來的權利，且始終不變。
 第二條：一切政治結社的目的都在於維護人類不可剝奪的權利。這些權利是自由、財產、安全與反抗壓迫。
 第三條：一切主權均根源於人民。任何團體、個人都不得行使人民未直接授予的權力。
 第十一條：自由傳達思想和意見是人類最寶貴的權利之一；因此，各個公民都有言論、著述和出版的自由，但在法律所規定的情況下，應對濫用此項自由負擔責任。

- () 25. 其中哪些內容，主要受到洛克學說的影響？
 (A)第一條、第二條 (B)第一條、第三條 (C)第二條、第三條 (D)第一條、第十一條
- () 26. 由以上節錄的條文內容，可知人權與公民權宣言受到哪一場變革的影響最深？
 (A)文藝復興 (B)宗教改革 (C)科學革命 (D)啟蒙運動
- () 27. 以上條文包含哪些重要的政治學說？甲、天賦人權 乙、三權分立 丙、主權在民 丁、言論自由
 (A)甲乙丙 (B)甲乙丁 (C)甲丙丁 (D)乙丙丁

(六)下圖是大航海時代，世界主要航線與地區分布的狀況，請觀察地圖並回答第 28~30 題：



- () 28. A 航線是由哪個國家所贊助？
(A)英國 (B)法國 (C)西班牙 (D)葡萄牙。
- () 29. B 航線的出現，最早是由何人所領導的船隻所開拓？
(A)狄亞士 (B)達伽馬 (C)哥倫布 (D)麥哲倫。
- () 30. C 航線繞過非洲南端，然而最早抵達「好望角」是何人所領導的船隻？
(A)狄亞士 (B)達伽馬 (C)哥倫布 (D)麥哲倫。